



Centralna Komisja Egzaminacyjna

Arkusz zawiera informacje prawnie chronione do momentu rozpoczęcia egzaminu.

Układ graficzny © CKE 2010

WPISUJE ZDAJĄCY

KOD

--	--	--

PESEL

--	--	--	--	--	--	--	--	--	--

*Miejsce
na naklejkę
z kodem*

EGZAMIN MATURALNY Z FIZYKI I ASTRONOMII

POZIOM PODSTAWOWY

MAJ 2010

Instrukcja dla zdającego

1. Sprawdź, czy arkusz egzaminacyjny zawiera 14 stron (zadania 1 – 22). Ewentualny brak zgłoś przewodniczącemu zespołu nadzorującego egzamin.
2. Rozwiązania i odpowiedzi zapisz w miejscu na to przeznaczonym przy każdym zadaniu.
3. W rozwiązaniach zadań rachunkowych przedstaw tok rozumowania prowadzący do ostatecznego wyniku oraz pamiętaj o jednostkach.
4. Pisz czytelnie. Używaj długopisu/pióra tylko z czarnym tuszem/atramentem.
5. Nie używaj korektora, a błędne zapisy wyraźnie przekreśl.
6. Pamiętaj, że zapisy w brudnopisie nie będą oceniane.
7. Podczas egzaminu możesz korzystać z karty wybranych wzorów i stałych fizycznych, linijki oraz kalkulatora.
8. Zaznaczając odpowiedzi w części karty przeznaczonej dla zdającego, zamaluj pola do tego przeznaczone. Błędne zaznaczenie otocz kółkiem i zaznacz właściwe.
9. Na karcie odpowiedzi wpisz swój numer PESEL i przyklej naklejkę z kodem.
10. Nie wpisuj żadnych znaków w części przeznaczonej dla egzaminatora.

**Czas pracy:
120 minut**

**Liczba punktów
do uzyskania: 50**



MFA-P1_1P-102


Zadania zamknięte

W zadaniach od 1. do 10. wybierz i zaznacz jedną poprawną odpowiedź.

Zadanie 1. (1 pkt)

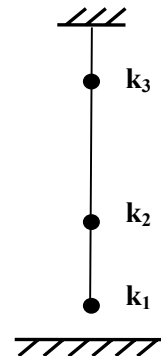
Po przelocie samolotu powstaje smuga kondensacyjna spalin, tworząc na niebie ślad (rysunek). Ślad ten przedstawia

- A. tor.
- B. drogę.
- C. prędkość.
- D. przemieszczenie.

**Zadanie 2. (1 pkt)**

Do pionowo zawieszonej nitki przymocowano 3 niewielkie ołowiane kulki. Odległość między stołem a pierwszą kulką wynosiła 10 cm a odległości pomiędzy kolejnymi kulkami wynosiły 30 cm i 50 cm odpowiednio (rysunek). Następnie przecięto sznurek ponad kulką k_3 i kulki zaczęły swobodnie spadać. Czas, po którym pierwsza kulka uderzyła w stół w porównaniu z czasem, jaki upłynął między uderzeniami kolejnych kulek o powierzchnię stołu jest

- A. krótszy niż czas między upadkiem kulek k_2 i k_3 .
- B. najkrótszym z czasów między upadkiem kolejnych kulek.
- C. najdłuższym z czasów między upadkiem kolejnych kulek.
- D. taki sam jak czasy między upadkiem kulek k_1 i k_2 oraz k_2 i k_3 .

**Zadanie 3. (1 pkt)**

W satelicie krążącym po kołowej orbicie na wysokości znacznie mniejszej od promienia Ziemi, uruchomiony został silnik i wartość prędkości względem Ziemi wzrosła do 11,2 km/h. Satelita ten

- A. będzie poruszał się po orbicie eliptycznej wokół Ziemi.
- B. będzie dalej poruszał się po tej samej orbicie wokół Ziemi.
- C. opuści orbitę okołoziemską a następnie naszą Galaktykę.
- D. opuści orbitę okołoziemską i pozostanie w Układzie Słonecznym.

Zadanie 4. (1 pkt)

Jednym z izotopów stosowanych do sterylizacji żywności jest izotop kobaltu ${}^{60}_{27}\text{Co}$. Jest to izotop nietrwały i ulega samorzutnie przemianie β^- . Wskutek tego rozpadu powstaje jądro pierwiastka, którego liczba protonów w jądrze wynosi

- A. 26.
- B. 28.
- C. 32.
- D. 33.

Zadanie 5. (1 pkt)

W półprzewodnikach domieszkowych typu n, w stosunku do półprzewodników samoistnych, mamy do czynienia z

- A. niedoborem dziur.
- B. nadmiarem dziur.
- C. niedoborem elektronów.
- D. nadmiarem elektronów.

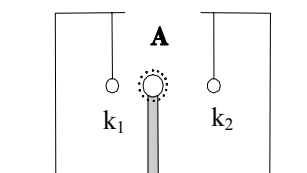
Zadanie 6. (1 pkt)

Spośród przedstawionych poniżej zestawów jednostek wybierz ten, który zawiera tylko podstawowe jednostki układu SI.

- A. mila, kilogram, godzina
- B. kilometr, gram, godzina
- C. metr, kilogram, sekunda
- D. centymetr, gram, sekunda

Zadanie 7. (1 pkt)

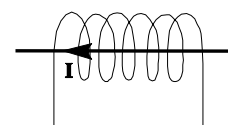
Wykonaną z przewodnika kulkę **A** naelektryzowano i następnie zbliżono do niej (bez zetknięcia) wiszące na izolujących nitkach metalowe, lekkie, nienaelektryzowane, identyczne kulki k_1 i k_2 . Przy nitkach wiszących pionowo (rysunek) kulki k_1 i k_2 byłyby odległe od kulki **A** odpowiednio o 5 i 10 cm. Po ustaleniu się stanu równowagi prawdą jest, że nitki, na których zawieszono są kulki,



- A. odchyliły się od pionu i kąt odchylenia nitki dla kulki k_1 jest równy kątowi odchylenia nitki dla kulki k_2 .
- B. odchyliły się od pionu i kąt odchylenia nitki dla kulki k_1 jest większy niż kąt odchylenia nitki dla kulki k_2 .
- C. odchyliły się od pionu i kąt odchylenia nitki dla kulki k_1 jest mniejszy niż kąt odchylenia nitki dla kulki k_2 .
- D. nie odchyliły się z położenia równowagi, ponieważ żadna z kulek nie była naelektryzowana.

Zadanie 8. (1 pkt)

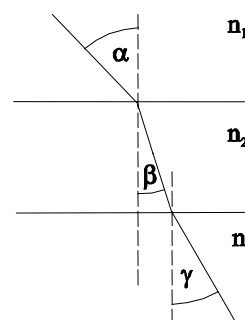
Wewnątrz zwojnicy o długości 5 cm wytworzono pole magnetyczne o indukcji 2 mT i umieszczono wzdłuż jej osi prostoliniowy przewodnik, przez który płynie prąd o natężeniu 1 mA (rysunek). Wartość siły elektrodynamicznej działającej wewnątrz zwojnicy na przewodnik wynosi



- A. 0 N.
- B. 10^{-9} N.
- C. 10^{-7} N.
- D. 10 N.

Zadanie 9. (1 pkt)

Jednobarwna wiązka światła przechodzi kolejno przez trzy różne ośrodki (rysunek). Jeżeli kąty α , β , γ spełniają warunek: $\alpha > \gamma > \beta$, to bezwzględne współczynniki załamania ośrodków spełniają warunek



- A. $n_1 < n_2 < n_3$.
- B. $n_1 > n_2 > n_3$.
- C. $n_1 < n_3 < n_2$.
- D. $n_1 = n_2 = n_3$.

Zadanie 10. (1 pkt)

Wszystkie gwiazdy podzielone zostały na 7 zasadniczych typów widmowych. Oznaczone zostały one wielkimi literami **O**, **B**, **A**, **F**, **G**, **K**, **M**, których kolejność odpowiada malejącej temperaturze gwiazd. Gwiazdami należącymi do typów **K** i **M** mogą być

- A. pulsary.
- B. białe karły.
- C. czarne dziury.
- D. czerwone olbrzymy.

Zadania otwarte

Rozwiązanie zadań o numerach od 11. do 21. należy zapisać w wyznaczonych miejscach pod treścią zadania.

Zadanie 11. Spadający kamień (5 pkt)

Z wysokości 20 m upuszczono swobodnie mały kamień.


Zadanie 11.1 (1 pkt)


Uzupełnij/dokończ zdanie:

Zjawisko swobodnego spadku w ziemskim polu grawitacyjnym występuje wtedy, gdy prędkość początkowa jest równa zero oraz

Zadanie 11.2 (4 pkt)

Wykonaj wykres ilustrujący zależność wysokości, na jakiej znajduje się kamień, od czasu spadania. Na wykresie nanieś 5 wartości liczbowych wysokości (w przedziale czasu 0–2 s). Wykonaj niezbędne obliczenia.

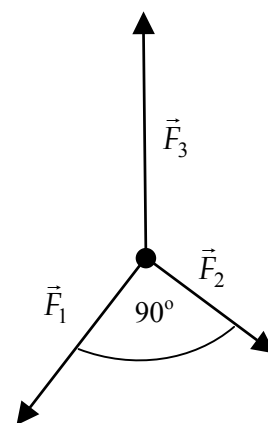





Zadanie 12. Trzy siły (2 pkt)

Na rysunku obok przedstawiono układ trzech sił działających na klocek, który pozostawał w spoczynku. Wartości sił wynosiły odpowiednio $F_1 = 30\text{ N}$, $F_2 = 40\text{ N}$.

Oblicz wartość siły \vec{F}_3 .



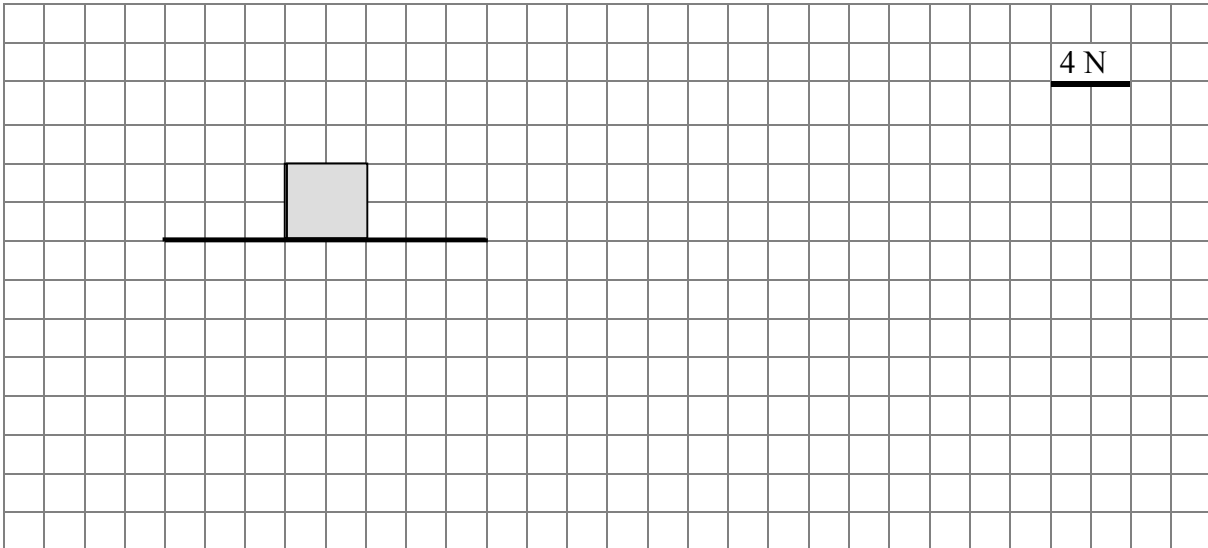
Wypełnia egzaminator	Nr zadania	11.1	11.2	12.
	Maks. liczba pkt	1	4	2
	Uzyskana liczba pkt			

Zadanie 13. Klocek (4 pkt)

Klocek o masie 1 kg przesuwano po poziomej powierzchni ruchem jednostajnym, działając na niego siłą o wartości 3 N.


Zadanie 13.1 (2 pkt)

Narysuj wektory wszystkich sił działających na klocek. Oznacz je i zapisz ich nazwy. Rysunek wykonaj z zachowaniem skali, zaznaczając punkty przyłożenia sił.

**Zadanie 13.2 (2 pkt)**


Wykaż, wykonując odpowiednie obliczenia, że spośród czterech par materiałów wymienionych w poniższej tabeli, klocek i podłoże, po którym się porusza, wykonane są z drewna.

Rodzaje materiałów	Drewno po drewnie	Stal po stali	Skóra po metalu	Drewno po metalu
Współczynnik tarcia kinetycznego	0,3	0,06	0,25	0,15



Zadanie 17.3 (3 pkt)

Narysuj konstrukcję ilustrującą powstawanie obrazu w sytuacji opisanej w treści zadania. Zapisz cechy otrzymanego obrazu.



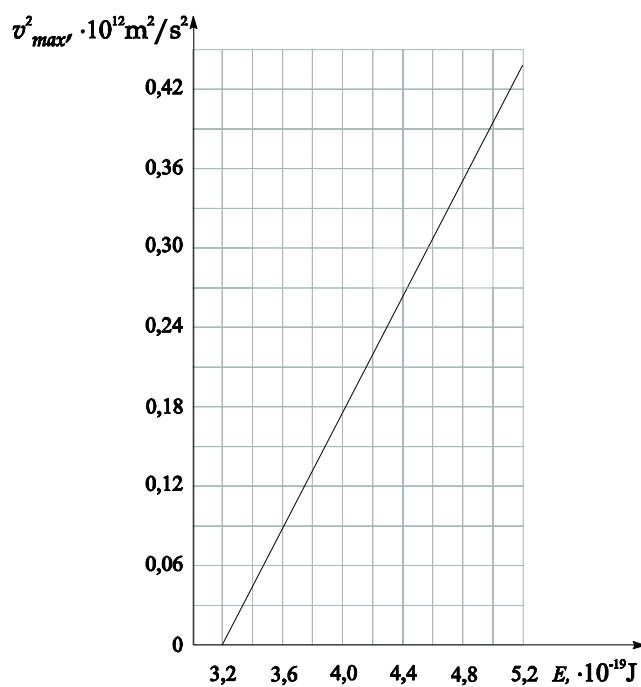
Cechy

obrazu:

.....

Zadanie 18. Fotoefekt (3 pkt)

Poniżej zamieszczono wykres zależności kwadratu maksymalnej wartości prędkości v_{\max}^2 wybitych z katody fotoelektronów od energii E fotonów padających na fotokatodę. W tabeli podano wartości pracy wyjścia dla materiałów, z których wykonywane są fotokatody.



Rodzaj materiału	Praca wyjścia
Cez	$3,0 \cdot 10^{-19} \text{ J}$
Cer	$4,14 \cdot 10^{-19} \text{ J}$
Potas	$3,2 \cdot 10^{-19} \text{ J}$
Wapń	$5,2 \cdot 10^{-19} \text{ J}$

BRUDNOPIS

--	--	--	--	--	--	--	--	--	--

KOD EGZAMINATORA

.....
Czytelny podpis egzaminatora

--	--	--

KOD ZDAJĄCEGO