

Miejsce
na naklejkę
z kodem

(Wpisuje zdający przed
rozpoczęciem pracy)

--	--	--

KOD ZDAJĄCEGO

--

PRÓBNY EGZAMIN MATURALNY Z FIZYKI I ASTRONOMII

Arkusz II
(dla poziomu rozszerzonego)

Czas pracy 120 minut

Instrukcja dla zdającego

1. Proszę sprawdzić, czy arkusz egzaminacyjny zawiera 12 stron. Ewentualny brak należy zgłosić przewodniczącemu zespołu nadzorującego egzamin.
2. Proszę uważnie czytać wszystkie polecenia.
3. Rozwiązania i odpowiedzi należy zapisać czytelnie w miejscu na to przeznaczonym przy każdym zadaniu.
4. W rozwiązaniach zadań rachunkowych trzeba przedstawić tok rozumowania prowadzący do ostatecznego wyniku oraz pamiętać o podaniu jednostek obliczanych wielkości.
5. W trakcie obliczeń można korzystać z kalkulatora.
6. Proszę pisać tylko w kolorze niebieskim lub czarnym; nie pisać ołówkiem.
7. Nie wolno używać korektora.
8. Błędne zapisy trzeba wyraźnie przekreślić.
9. Brudnopis nie będzie oceniany.
10. Obok każdego zadania podana jest maksymalna liczba punktów, którą można uzyskać za jego poprawne rozwiązanie.

Życzymy powodzenia!

ARKUSZ II

GRUDZIEŃ
ROK 2004

Za rozwiązanie wszystkich
zadań można otrzymać łącznie
50 punktów.

(Wpisuje zdający przed rozpoczęciem pracy)

--	--	--	--	--	--	--	--	--	--	--	--	--	--	--	--	--	--	--	--

PESEL ZDAJĄCEGO

Zadanie 24. (10 pkt) TERMOMETR OPOROWY


W tabeli przedstawiono wyniki pomiarów oporu elektrycznego zwojnicy miedzianej przy różnych temperaturach jej otoczenia.

Temperatura t ($^{\circ}\text{C}$)	20	30	40	50	60
Opór elektryczny R (Ω)	86	90	93	96	100

Pomiarów dokonano z dokładnością: $\Delta t = \pm 1^{\circ}\text{C}$, $\Delta R = \pm 1\Omega$.

a) (4 pkt) Wykorzystując dane zamieszczone w tabeli i korzystając z umieszczonej niżej siatki, sporządź wykres zależności oporu elektrycznego zwojnicy od jej temperatury, równej temperaturze otoczenia. Nanieś na wykres niepewności wyznaczenia temperatury i oporu.

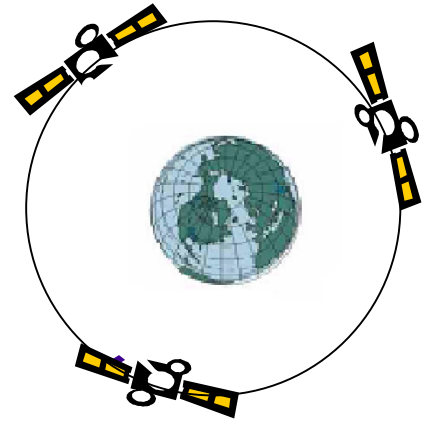
Uwaga: przed rozpoczęciem skalowania wykresu przeczytaj dokładnie całe zadanie.



- b)** (1 pkt) Na podstawie wykresu wyznacz opór elektryczny zwojnicy w temperaturze 0°C .
- c)** (3 pkt) Ogólne równanie prostej na wykresie ma postać $R_t = R_0(1+\alpha t)$. Na podstawie wykresu wyznacz wartość współczynnika α .
- d)** (2 pkt) Zwojnicę opisaną w zadaniu zanurzono do wody i wyznaczono jej opór - wynosił on wtedy $105\ \Omega$. Wyznacz temperaturę wody.

Zadanie 25. (10 pkt) SATELITY

Do celów telekomunikacji wykorzystywane są tzw. satelity geostacjonarne, które krążąc dookoła Ziemi pozornie „wiszą” nad wybranym punktem powierzchni Ziemi.



a) (2 pkt) Jakie muszą być okres i kierunek obiegu takiego satelity i jak musi być położona jego orbita w stosunku do równika?

.....

.....

.....

.....

.....

.....

.....

.....

.....

.....

.....

.....

.....

.....

.....

.....

.....

.....

.....

.....

.....

.....

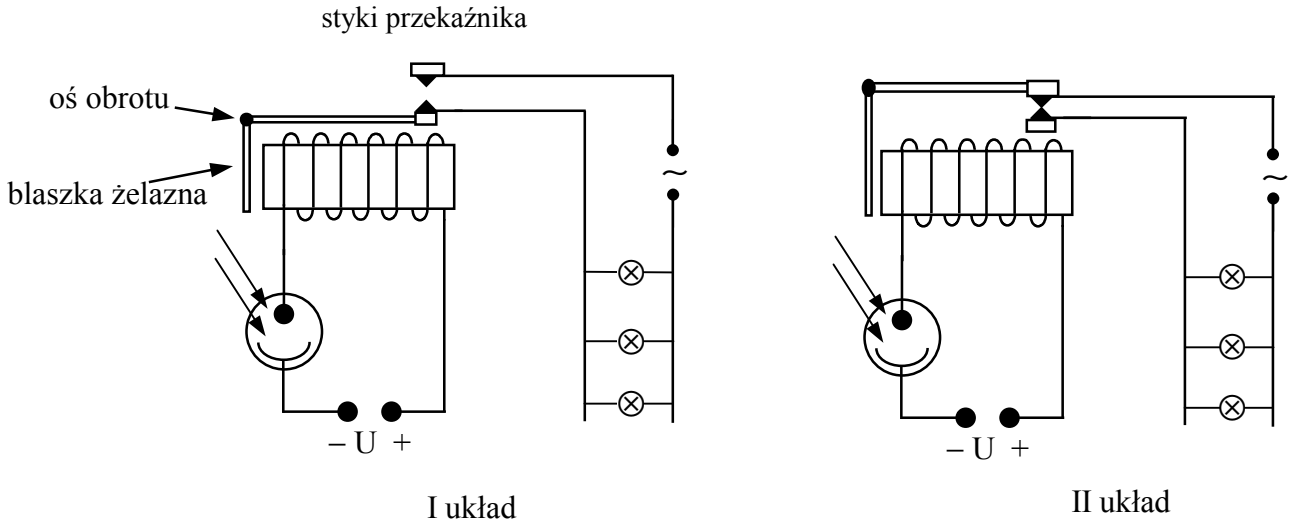
b) (3 pkt) Wykaż, że jeżeli promień orbity takiego satelity wynosi 42 300 km, to prędkość z jaką krąży, wynosi około 3,08 km/s.

c) (3 pkt) W wyniku błędu obsługi inna firma ulokowała na takiej samej orbicie satelitę telekomunikacyjnego o masie dwa razy mniejszej i poruszającego się w przeciwną stronę. W wyniku zderzenia oba obiekty utworzyły jedną bryłę. Oblicz prędkość tej bryły tuż po zderzeniu.

d) (2 pkt) Dlaczego utworzona w wyniku zderzenia bryła nie może poruszać się po orbicie stacjonarnej? Czy prędkość, z jaką porusza się bryła, jest prędkością orbitalną dla orbity leżącej dalej czy bliżej Ziemi? Odpowiedzi uzasadnij.

Zadanie 26. (11 pkt) FOTOKOMÓRKA

Po lekcji o budowie i zasadzie działania fotokomórki nauczyciel fizyki polecił uczniom zaprojektowanie układu, który włączałby oświetlenie, kiedy zapada zmrok i wyłączał, kiedy zaczyna się dzień. Adam zaprojektował I układ, a Alek II układ. Poniższy rysunek przedstawia oba układy. Opis przy układzie I dotyczy także układu II.



- a) (4 pkt) Napisz, który z układów działa zgodnie z założeniami. Opisz działanie obu układów, gdy światło świeci na fotokomórkę i gdy przestaje świecić.

.....

.....

.....

.....

.....

.....

.....

.....

.....

.....

.....

.....

.....

.....

.....

.....

.....

.....

.....

.....

.....

.....

.....

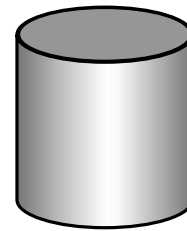
b) (3 pkt) Katoda fotokomórki pokryta jest cezem, dla którego praca wyjścia elektronu wynosi 2 eV. Wykaż, że światło o długości fali $\lambda < 600$ nm (a więc światło widzialne) spowoduje działanie takiej fotokomórki.

c) (2 pkt) Napięcie w obwodzie z żarówkami ma wartość skuteczną równą 230 V. Oblicz maksymalną wartość napięcia między zaciskami żarówek.

d) (2 pkt) W obwodzie włączono 3 żarówki o mocy 100 W każda. Oblicz skuteczne natężenie prądu płynącego między stykami przekaźnika.

Zadanie 27. (9 pkt) OGRZEWANIE WODY

Do doświadczeń mających na celu wyznaczenie ciepła właściwego substancji jest używane naczynie wykonane z aluminium. Masa tego naczynia wynosi 120 g, pole powierzchni całkowitej (jest to walec) wynosi $0,047 \text{ m}^2$. Ścianki naczynia mają grubość 1 mm.



- a) (2 pkt) Wykaż, że przy różnicy temperatur między otoczeniem a wnętrzem naczynia równej 5°C , w ciągu 1 sekundy przez całą powierzchnię kalorymetru przechodzi ciepło w ilości 51700 J. Współczynnik przewodzenia ciepła dla aluminium wynosi

$$U = 220 \frac{\text{W}}{\text{m} \cdot \text{K}}.$$

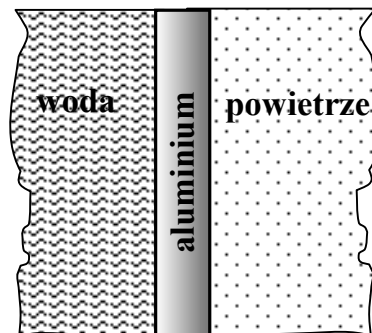
- b) (2 pkt) Do naczynia nalewamy 785 g wody o takiej temperaturze, że po chwili (potrzebnej na wyrównanie temperatur wody i naczynia) uzyskujemy temperaturę wody i naczynia równą 10°C . Wykaż, że ilość energii cieplnej potrzebnej do tego, aby naczynie i woda w nim zawarta ogrzały się do temperatury otoczenia, czyli 20°C , wynosi około 34000 J.

Ciepło właściwe aluminium wynosi $900 \frac{\text{J}}{\text{kg} \cdot \text{K}}$, ciepło właściwe wody jest równe

$$4200 \frac{\text{J}}{\text{kg} \cdot \text{K}}.$$

- c) (5 pkt) Z poprzednich punktów wynika, że ciepło potrzebne do ogrzania wody i naczynia o 10°C niewiele się różni od ilości ciepła przekazanego przez otoczenie do wnętrza naczynia w czasie 1 sekundy przy różnicy temperatur 5°C (przy ogrzewaniu tego naczynia różnica temperatur malała od początkowej wartości 10°C do końcowej równej zero – możemy więc przyjąć, że w czasie ogrzewania średnia różnica temperatur wynosiła 5°C). Mogłoby z tego wynikać, że czas ogrzewania wody w naczyniu tym sposobem powinien być bardzo krótki. Wszyscy wiemy jednak, że tak nie jest. W poniższej tabeli zestawione są niektóre dane dotyczące wody, aluminium i powietrza. Wykorzystaj te dane i podaj z uzasadnieniem dwa powody, które znacznie wydłużają czas ogrzewania wody w naczyniu przez otoczenie na drodze przewodzenia ciepłego. Zaproponuj sposób na skrócenie tego czasu.

Substancja	Ciepło właściwe	Współczynnik przewodzenia ciepła U
Powietrze	$1020 \frac{\text{J}}{\text{kg} \cdot \text{K}}$	$0,02 \frac{\text{W}}{\text{m} \cdot \text{K}}$
Woda	$4200 \frac{\text{J}}{\text{kg} \cdot \text{K}}$	$0,54 \frac{\text{W}}{\text{m} \cdot \text{K}}$
Aluminium	$900 \frac{\text{J}}{\text{kg} \cdot \text{K}}$	$220 \frac{\text{W}}{\text{m} \cdot \text{K}}$



.....

.....

.....

.....

.....

.....

.....

.....

.....

.....

.....

.....

.....

.....

.....

.....

.....

.....

.....

.....

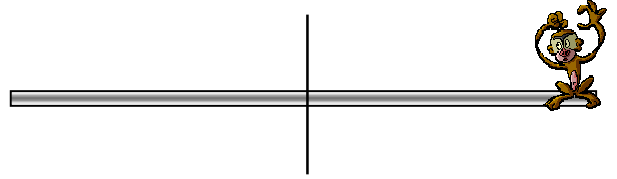
.....

.....

.....


Zadanie 28. (10 pkt) MAŁPKA I PULSAR

Na jednym z końców obracającej się wokół pionowej osi cienkościennej rurki siedzi małpka. Rurka ma długość 2 m, jej masa wynosi 0,5 kg, małpka ma masę 2 kg. Oś obrotu przechodzi przez środek rurki.



a) (2 pkt) Oblicz wartość momentu bezwładności pręta z małpką siedzącą na końcu pręta. Przyjmij, że rozmiary małpki są niewielkie w stosunku do długości pręta.

b) (2 pkt) W pewnej chwili pręt z małpką siedzącą na końcu został wprawiony w powolny ruch obrotowy tak, że wykonywał jeden obrót na 10 sekund. Małpka nie była z tego zbyt zadowolona i przeszła na środek pręta. Pręt z siedzącą na środku małpką zaczął wirować szybciej, mimo że nikt do niego nie podchodził.



Dlaczego pręt zaczął wirować szybciej, gdy małpka przeszła na jego środek?

.....

.....

.....

.....

.....

.....

.....

.....

.....

.....

.....

.....

.....

.....

.....

.....

.....

.....

.....

.....

c) (3 pkt) Oblicz okres obrotu pręta, jeżeli małpka siedzi na jego środku.

d) (3 pkt) Pulsary są gwiazdami neutronowymi o średnicy rzędu 20 - 100 km powstałymi w toku ewolucji gwiazd o masach większych od masy Słońca. Jądro gwiazdy gwałtownie zmniejsza swój promień, a materia poza jądrem zostaje wyrzucona w przestrzeń. Powstały obiekt składa się głównie z neutronów i bardzo szybko wiruje. Okres jednego obrotu jest rzędu nawet jednej setnej sekundy. Sprawdź (wykonując obliczenia), czy zmniejszenie promienia jądra gwiazdy ze 100 000 km do 10 km (przy zachowaniu stałej masy jądra) prowadzi do zmniejszenia okresu obrotu z 30 dni do setnych części sekundy.

BRUDNOPIS