



dysleksja

**PRÓBNY  
EGZAMIN MATURALNY  
Z FIZYKI I ASTRONOMII**

**Arkusz II**  
(poziom rozszerzony)  
**Czas pracy 120 minut**

**ARKUSZ II**

**Instrukcja dla zdającego**

1. Proszę sprawdzić, czy arkusz egzaminacyjny zawiera 8 stron. Ewentualny brak należy zgłosić przewodniczącemu zespołu nadzorującego przebieg egzaminu.
2. Proszę uważnie czytać wszystkie polecenia.
3. Rozwiązania i odpowiedzi należy zapisać czytelnie w miejscu na to przeznaczonym przy każdym zadaniu.
4. W rozwiązaniach zadań rachunkowych trzeba przedstawić tok rozumowania prowadzący do ostatecznego wyniku oraz pamiętać o podaniu jednostek obliczanych wielkości.
5. W trakcie obliczeń można korzystać z kalkulatora.
6. Proszę pisać tylko w czarnym; nie pisać ołówkiem.
7. Nie wolno używać korektora.
8. Błędne zapisy trzeba wyraźnie przekreślać.
9. Brudnopis nie będzie oceniany.
10. Obok każdego zadania podana jest maksymalna liczba punktów, którą można uzyskać za jego poprawne rozwiązanie.
11. Do ostatniej kartki arkusza dołączona jest **karta odpowiedzi**, którą **wypełnia egzaminator**.

**STYCZEŃ  
ROK 2005**

Za poprawne  
rozwiązanie  
wszystkich zadań  
można otrzymać  
łącznie **50 punktów**

***Życzymy powodzenia!***

Wpisuje zdający przed rozpoczęciem pracy


|  |  |  |  |  |  |  |  |  |  |  |
|--|--|--|--|--|--|--|--|--|--|--|
|  |  |  |  |  |  |  |  |  |  |  |
|--|--|--|--|--|--|--|--|--|--|--|

**PESEL ZDAJĄCEGO**

**Zadanie 24. Ryby (8 pkt)**


**24.1 (6 pkt)**

Ryby sterują głębokością swego zanurzenia w wodzie, zmieniając zawartość powietrza w pęcherzach pławnych, tak aby ich średnia gęstość była równa gęstości wody na danej głębokości. Przyjmij, że gdy całe powietrze jest usunięte z pęcherzy pławnych, ryba ma średnią gęstość równą  $1080 \frac{\text{kg}}{\text{m}^3}$ . Oblicz, jaką część całkowitej objętości ryby musi stanowić powietrze w pęcherzach pławnych, aby jej gęstość zmniejszyła się do wartości odpowiadającej zwykłej gęstości wody ( $1000 \frac{\text{kg}}{\text{m}^3}$ ). Gęstość powietrza wynosi  $1,21 \frac{\text{kg}}{\text{m}^3}$ .



**24.2 (2 pkt)**

Ryby pływają na różnych głębokościach: od wód powierzchniowych po bardzo głębokie. Oblicz zmianę ciśnienia wywieranego przez wodę na rybę, która spod samej powierzchni jeziora popłynęła na głębokość 50 m.




**Zadanie 25 Butla z gazem (9 pkt)**

Butla o pojemności 40 l ( $\text{dm}^3$ ), która zawiera 1,97 kg dwutlenku węgla, wytrzymałe ciśnienie nie większe niż  $3 \cdot 10^6 \text{ Pa}$ .


**25.1 (5 pkt)**

Oblicz, w jakiej temperaturze (w  $^{\circ}\text{C}$ ) powstaje niebezpieczeństwo wybuchu. (gęstość dwutlenku węgla  $d = 1,97 \frac{\text{kg}}{\text{m}^3}$ ,  $p_0 = 10^5 \text{ Pa}$ ,  $T_0 = 273\text{K}$ )



**25.2 (4 pkt)**

Na skutek nieszczelności zaworu dwutlenek węgla ulatniał się z butli. Oblicz, jaka ilość gazu ulotniła się, jeżeli wiadomo, że ciśnienie gazu w butli spadło o połowę, a temperatura nie zmieniła się.




**Zadanie 26. Naładowana cząstka (9 pkt)**

Naładowana cząstka, o określonej energii kinetycznej, poruszała się w polu magnetycznym po okręgu o promieniu  $R = 2$  cm. Po przejściu przez płytkę ołowianą cząstka dalej poruszała się w tym samym polu magnetycznym, po okręgu o mniejszym promieniu  $r = 1$  cm.


**26.1 (4 pkt)**

Oblicz względną zmianę energii kinetycznej cząstki po przejściu przez płytkę ołowiana, przy założeniu, że wartość jej prędkości jest znacznie mniejsza od prędkości światła.



**26.2 (5 pkt)**


Oblicz wartość energii kinetycznej cząstki przed i po przejściu przez płytkę ołowianą. Przyjmij, że cząstką tą jest proton oraz że wartość indukcji pola magnetycznego  $B = 1$  T. Energię wyraż w eV.





**27.3 (1 pkt)**

Oblicz moce wydzielane w poszczególnych opornikach.



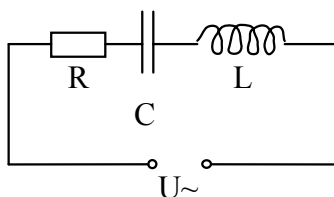
**27.4 (4 pkt)**

Wykaż, że jeżeli założymy, że  $R = R_1 = R_2$ , to w oporniku R będzie wydzielana się największa moc i wylicz, ile razy będzie ona większa od mocy wydzielanej w  $R_1$ .




**Zadanie 28. Obwód RLC (12 pkt)**

Cewkę o indukcyjności  $L$ , kondensator o pojemności  $C$  i opornik o oporze  $R$  połączono szeregowo ze źródłem napięcia przemiennego  $U$ , jak na rysunku.



**28.1 (8 pkt)**

Narysuj wykresy wektorowe (wskazowe) dla wszystkich przypadków podanych w tabeli 28.2.



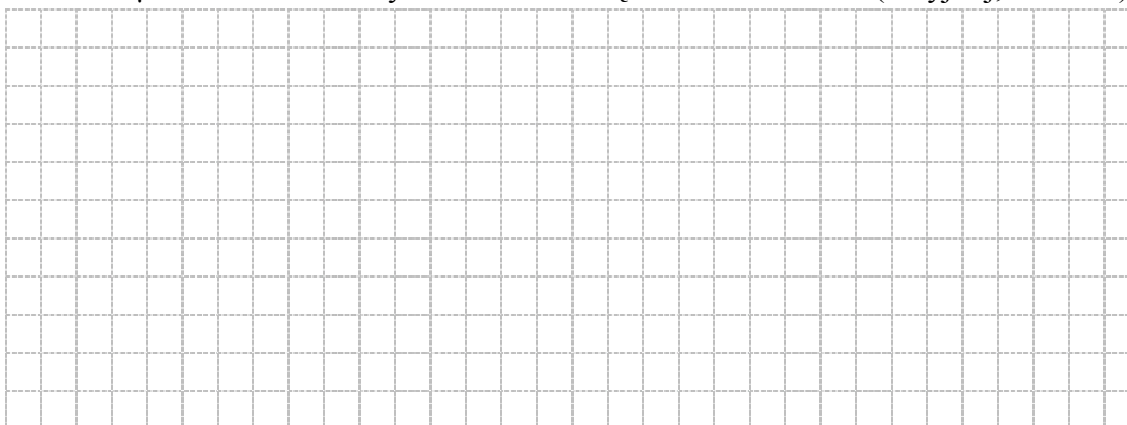
**28.2 (1 pkt)**

Uzupełnij poniższą tabelę:

|          | $U_R$ [V] | $U_L$ [V] | $U_C$ [V] | $U$ [V] |
|----------|-----------|-----------|-----------|---------|
| <b>a</b> | 10        | 20        | 10        |         |
| <b>b</b> |           | 110       | 150       | 50      |
| <b>c</b> | 50        | 10        |           | 50      |
| <b>d</b> | 0         |           | 15        | 30      |

**28.3 (3 pkt)**

Oblicz, jaką pojemność powinien mieć kondensator w obwodzie, aby przy indukcyjności  $L = 250 \mu\text{H}$  obwód można było nastroić na częstotliwość 500 Hz. (Przyjmij, że  $R = 0$ ).



**Brudnopis**

